

Шифр

5	-																		
---	---	--	--	--	--	--	--	--	--	--	--	--	--	--	--	--	--	--	--

Всероссийская олимпиада школьников по географии
школьный этап 2022-2023 учебный год
5 класс

ЛИСТ ОТВЕТОВ

Участник олимпиады	
Фамилия	Дмитьева
Имя	Светлана
Отчество	Владовна

№ задания	Баллы			Тесты
	1	2	3	
Количество баллов	6,5	7	4	4,5
Подпись члена жюри				
Сумма баллов и подпись председателя	250 -			

Шифр

5	-																			
---	---	--	--	--	--	--	--	--	--	--	--	--	--	--	--	--	--	--	--	--

**Всероссийская олимпиада школьников по географии
школьный этап 2022-2023 учебный год**

5 класс

Бланк ответов учащегося для заданий тестового тура

№ вопроса	Правильный ответ (элементы ответа)
1.	A B 1
2.	B 1
3.	B-1, A-2 1
4.	B 1
5.	A-1 B-4 B-2 B Г-3 0,5
6.	B 1
7.	Г
8.	B
9.	A B Г 1
10.	A

6,8

Шифр

5	-																			
---	---	--	--	--	--	--	--	--	--	--	--	--	--	--	--	--	--	--	--	--

Теоретический тур
Задание № 1 «Историческое»

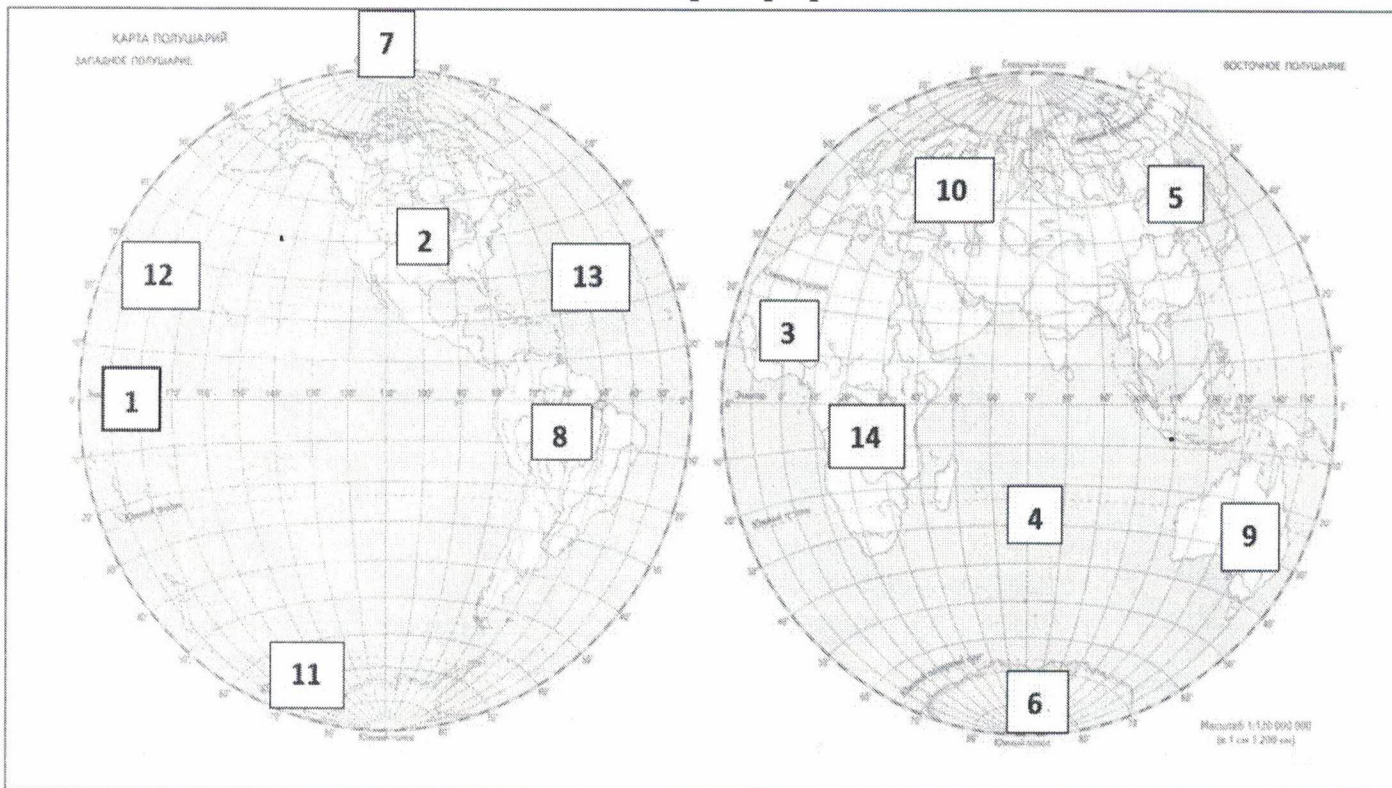
№	Вопрос	Ответ
1.	Назовите даты первого кругосветного путешествия.	XV-XVI 1519 - 1522 годы 0,5
2.	Кто был организатором этого уникального плавания?	Фернан Магелан. Васко да Гама. 0,5
3.	Какому океану он дал название и почему именно такое?	Тихий 0,5
4.	Выберите объекты, которые не могли встретиться на пути у путешественников:	0
5.	Какие имена носили корабли этой морской экспедиции?	Виктория, Трииндаде Сан-Антонио 1,5
6.	Какой корабль вернулся на родину?	Виктория 1
7.	Кто в результате этого плавания получил титул дворянина и герб?	Элькано 1
8.	Кто и когда совершил кругосветное путешествие за 108 минут?	Ю. А. Гагарин 0,5
9.	На каком корабле это было совершено?	Восток 1
10.	Гражданином какой страны?	СССР 1

6,5

Шифр

5	-																		
---	---	--	--	--	--	--	--	--	--	--	--	--	--	--	--	--	--	--	--

Задание № 2 «Картографическое»



№	Вопрос	Ответ цифра на карте	– на	Ответ географический объект
А	Столица РФ – город...	10	0,5	Москва 0,5
Б	Город - центр нашего края – город...	5	0,5	Кадаровск 0,5
В	Где начинается отчет широт?	1	0,5	Экватор 0,5
Г	Место – начало отсчета долгот?	8	0,5	Кенур 0,5
Д	Место на земном шаре, имеющее только широту, какую?	7	1	11
Е	Самый жаркий материк	14	0,5	Африка 0,5
Ж	Самый сухой материк	3	–	–

Шифр

5	-																	
---	---	--	--	--	--	--	--	--	--	--	--	--	--	--	--	--	--	--

З	Самый влажный материк	Ж	
И	Самый холодный материк	В	0,5
К	Особая параллель, где солнце бывает в зените 22 июня	А 12	0,5 Северный тропик 0,5
Л	Параллель, за которой в декабре, солнце не заходит за горизонт – полярный день	Б 11	0,5
М	На каком материке располагается точка с координатами - 40°с.ш. и 100°з.д.	1	не существует
Н	Самый теплый океан носит название страны, которую омывает	4	0,5
О	Океан, названный в честь греческого мифического героя	13	0,5

48.

5	-																		
---	---	--	--	--	--	--	--	--	--	--	--	--	--	--	--	--	--	--	--

Задание № 3 «Водное»

№	Вопрос	Ответ
1.	Человек моется водой сам, моет посуду, полы, стирает в ней белье. Какое свойство воды при этом использует человек?	растворитель 1.
2	Много рек течет со всех сторон в моря. Почему же море не переполняется и не заливают сушу?	ρ
3	Зачем в крышке чайника делают небольшое отверстие?	чтобы его можно было открутить 0
4	Летом по утрам часто можно на листьях кустарников и на траве появляется роса. Объясните, почему появляется роса.	поэтому что воздух охлаждается и конденсируется роса. 0
5	Почему сырое белье, развешенное на балконе, в теплую погоду сохнет быстрее, чем в холодную?	потому что в теплую погоду то менее прилежания к вещам. 0
6	Почему ключевая вода в колодцах всегда чище, чем в реках или прудах?	грунтовые воды не загрязняются санитом 1
7	Почему вода в глубоких колодцах и ключах всегда холодная?	поэтому что там всегда холодно 1
8	Часто воду называют «вечной страницей». К.Д. Ушинский называет её «неутомимая путешественница». Объясните, почему воде	0

Шифр

5	-																		
---	---	--	--	--	--	--	--	--	--	--	--	--	--	--	--	--	--	--	--

	даны такие названия?	но таму што е многу
9	Почему вода в реках у берегов течет медленнее, чем в середине (стремнина реки)?	0
10	М.Ю. Лермонтов в своем стихотворении «Тучи» написал: «Тучки небесные, вечные странники!..» Правильно ли поэт называет тучи вечными странниками?	да 0
11	Почему во время ледохода лёд плывет по поверхности воды и не тонет?	лед легче воды
12	При постройке гидроэлектростанций реку перекрывают плотиной, поднимая уровень воды. Зачем это делают?	0
13	В чем сходство и в чем различие между туманом и облаком?	туман нет различия 0
14	Почему нашу планету было бы правильно назвать планета Океан?	но таму што у нас очень много озер и рек. 1/2 земли - вода

48

Шифр

6	-																		
---	---	--	--	--	--	--	--	--	--	--	--	--	--	--	--	--	--	--	--

Всероссийская олимпиада школьников по географии
школьный этап 2022-2023 учебный год
6 класс

ЛИСТ ОТВЕТОВ

Участник олимпиады	
Фамилия	Жривокитов
Имя	Евг
Отчество	Алексеевич

№ задания	Баллы			Тесты
	1	2	3	
Количество баллов	8	3	8,5	8
Подпись члена жюри				
Сумма баллов и подпись председателя	27,5			

Шифр

6	-																		
---	---	--	--	--	--	--	--	--	--	--	--	--	--	--	--	--	--	--	--

**Всероссийская олимпиада школьников по географии
школьный этап 2022-2023 учебный год**

6 класс

Бланк ответов учащегося для заданий тестового тура

№ вопроса	Правильный ответ (элементы ответа)
1.	г 1
2.	а) 0
3.	а) 0
4.	б) 1
5.	б) Смеша две яблоки / 1 в) 0,5 г) 0,5
6.	б) а) б) 1,5
7.	б) мрамор. 1,5
8.	б) 0 в) 0,5 г) 0,5
9.	1-а) 2-г) // 1,5
10.	б) Сахароза, верблюжья колючка, астрагал. 1

88

Шифр

6	-																		
---	---	--	--	--	--	--	--	--	--	--	--	--	--	--	--	--	--	--	--

Теоретический тур

Задание № 1 «Кругосветное путешествие»

№	Вопрос	Ответ
1.	Назовите даты первого кругосветного путешествия.	XV-XVI вв. 1519г. — 1522 0,5
2.	Кто был организатором этого уникального плавания?	Фернан Магелан 0,5 Васко Да Гама
3.	Какому океану он дал название и почему именно такое?	Магеланов Крестов @
4.	Выберите объекты, которые не могли встретиться на пути у путешественников:	малайский архипелаг, Карибское море. остров Сахалин 0,5 0,5
5.	Какие имена носили корабли этой морской экспедиции?	Замора, Восток. Виктория 0,5
6.	Какой корабль вернулся на родину?	Виктория 1
7.	Кто в результате этого плавания получил титул дворянина и герб?	Фернан Магелан, Васко Да Гама. 0
8.	Почему 18 вернувшихся участников экспедиции церковью были преданы анафеме и вынуждены были замалчивать грехи? Какую знаменитую линию пересекла экспедиция?	Потому что они не пересекли никогда знаменитую линию не открыли ни-кого нового. пролив на Юге Америки.
9.	Когда и кем было	Иван Федорович Крузенштерн (0,5) →

6	-																		
---	---	--	--	--	--	--	--	--	--	--	--	--	--	--	--	--	--	--	--

	совершено первое русское кругосветное путешествие? Назовите имена этих кораблей?	Север, Викторид Судостроитель 11.9.01 0,5 Надежда 0,5, Кева 0,5 / 1,5
10.	Кто и когда совершил кругосветное путешествие за 108 минут? На каком корабле это было совершено? Гражданином какой страны?	Винце Беринг Ю. А. Гагарин 12. апреля 1961 г. 2) Север Восток 0,5 3) То же СССР 0,5 / 1
11.	Кто автор приключенческого романа?	Христофор Колумб Жюль Верн. 0,5
12.	Назовите город (начало и окончание путешествия) и страну, в которой он расположен.	Россия Лондон и Амстердам 0,5
13.	Сколько времени понадобилось героям для того чтобы вернуться в город, откуда они начали свой путь.	108 минут 80 дней 0,5

80

Шифр

6	-																		
---	---	--	--	--	--	--	--	--	--	--	--	--	--	--	--	--	--	--	--

Задание № 2 «Логическая сетка»

Вода	Гидросфера	Круговорот воды
Воздух	Атмосфера	Ветер
Явления	Биосфера	Круговорот веществ
Вулкан	Земля Литосфера. Горы.	Круговорот горных пород

Вопрос	Ответ
1. Выявленный признак объединяющий понятия в 1 строчке	Слова вода и где это. 0
2. Выявленный признак во 2 строчке	Все связано с воздухом и где Атмосфера 1
3. Выявленный общий признак в 3 столбце	Явления природы. 1
4. Выявленный признак во 2 столбце	какая какая атмосфера ее окружает. 0
5. Выявленный признак в 1 столбце	про что там говоришь. 0

Шифр

6	-																		
---	---	--	--	--	--	--	--	--	--	--	--	--	--	--	--	--	--	--	--

6. Недостающее понятие в 3 строчке	про ветер просто ветер а везде кружоворот никого отражения
7. Недостающие понятия в 4 строчке	там говорится о вулкане . 0

Задание № 3 «Белая ворона»

№	Название географических объектов	Общий признак объединения	Лишний объект и причина
1.	Тихий, Индийский, Атлантический, Северный Ледовитый, Антарктида	это все океаны. 0,5	Антарктида это не океан. 0,5
2.	Везувий, Костюшко, Килиманджаро, Этна, Кракатау	полуострова . 0	Килиманджаро вулкан. 0
3.	Каспийское, Азовское, Охотское, Карское, Чукотское	это море. 0,5	Карское 0,5
4.	Амазонка, Волга, Амур, Нил, Миссисипи, Байкал	реки 0,5	Байкал озеро. 0,5
5.	Сихотэ-Алинь, Урал, Кордильеры, Таймыр, Анды	горы. 0,5	Таймыр остров. 0,5
6.	Алтай, Сахалин, Гренландия, Мадагаскар, Куба	острова. 0,5	Алтай гор. 0,5
7.	Хабаровск, Амурск, Биробиджан, Николаевск-на-Амуре, Комсомольск-на-Амуре	города. 0,5	— 0
8.	Китай, Япония, Россия, Монголия, Нью-Дели, Бразилия	страны. 0,5	Нью-Дели город. 0,5
9.	Каир, Мехико, Канберра, Варшава, Ярославль	станицы страны 0,5	Ярославль город. 0,5
10.	Африка, Аральское,		

до не читать посылки строк

Шифр

6	-																		
---	---	--	--	--	--	--	--	--	--	--	--	--	--	--	--	--	--	--	--

Виктория, Ладожское	Чад,	<i>озера 0,5</i>	<i>Армия 0,5.</i>
------------------------	------	------------------	-------------------

1.

8,5

Шифр

7	-																		
---	---	--	--	--	--	--	--	--	--	--	--	--	--	--	--	--	--	--	--

Всероссийская олимпиада школьников по географии
школьный этап 2022-2023 учебный год
7 класс

ЛИСТ ОТВЕТОВ

Участник олимпиады	
Фамилия	Козлов
Имя	Марк
Отчество	Вячеславович

№ задания	Баллы				Тесты
	1	2	3	4	
Количество баллов	5,5	2	5,5	4	9
Подпись члена жюри					
Сумма баллов и подпись председателя	26				

Всероссийская олимпиада школьников по географии
школьный этап 2022-2023 учебный год

7 класс

Бланк ответов учащегося для заданий тестового тура

№ вопроса	Правильный ответ (элементы ответа)
1.	а, а, б
2.	а-1; б-2; в-3; д-4; 2
3.	б 1
4.	а
5.	б 0,5
6.	а 0,5
7.	4-б; 3-в; 2-г; 1-а; 0,5
8.	3-а; 2-б; 4-г; 1-в; 1
9.	1-б; 2-г; 0,5
10.	б 0,5
11.	1-б; 2-а 1
12.	б 1
13.	а
14.	а
15.	б 0,5

Шифр

7	-																	
---	---	--	--	--	--	--	--	--	--	--	--	--	--	--	--	--	--	--

Теоретический тур

Задание № 1. «Кругосветное путешествие»

№	Вопрос	Ответ
1.	Назовите даты первого кругосветного путешествия.	(XV-XVI вв) 1492 г / 1519 г 0,5
2.	Кто был организатором этого уникального плавания?	Испанский архитектор, острова Новая земля, Филиппинские острова.
3.	Какому океану он дал название и почему именно такое?	Просток: он не на нем поплыл на восток Индий 0,5
4.	Выберите объекты, которые не могли встретиться на пути у путешественников:	Кругосвет плавание
5.	Какие имена носили корабли этой морской экспедиции?	Виктория, Сантисимо
6.	Какой корабль вернулся на родину?	
7.	Кто в результате этого плавания получил титул дворянина и герб?	
8.	Почему 18 вернувшихся участников экспедиции церковью были преданы анафеме и вынуждены были замалчивать грехи? Какую знаменитую линию пересекла экспедиция?	Римская и Визу
9.	Когда и кем было	

7	-																		
	совершено первое русское кругосветное путешествие? Назовите названия этих кораблей?	<p>Секотт и Ф. Крузенштерн 0,5/9,5</p> <p>Нева Надежда 0,5 0,5</p>																	
10.	Кто и когда совершил кругосветное путешествие за 108 минут? На каком корабле это было совершено? Гражданином какой страны?	<p>перою понадобилось много времени</p> <p>- Таларин, Ю.А. 0,5</p> <p>- Восток 0,5</p> <p>- СССР 0,5</p> <p>9,5</p>																	
11.	Кто автор приключенческого романа?	<p>Кружус</p> <p>0</p>																	
12.	Назовите город – начало и окончание путешествия и страну, в которой он расположен.	<p>М. Америка - Филиппинский 0</p>																	
13.	Сколько времени понадобилось героям для того чтобы вернуться в город, откуда они начали свой путь.	<p>108 минут</p> <p>80 дней 0,5</p>																	

5,5

7	-																		
---	---	--	--	--	--	--	--	--	--	--	--	--	--	--	--	--	--	--	--

Задание № 2. «Логическая сетка»

Вода	Гидросфера	Круговорот воды
Воздух	Атмосфера	Ветер
? <i>Ветер</i> <i>низ</i>	Биосфера	Круговорот веществ
? <i>Горы</i>	<i>Стратосфера</i> ?	Круговорот горных пород

Вопрос	Ответ
1. Выявленный признак объединяющий понятия в 1 строчке	Круговорот воды в природе сначала идет дождь получается туман и только потом прекаляет солнце и испаряет всю воду
2. Выявленный признак во 2 строчке	Если ветер сильный то это означает что вырубали очень много деревьев
3. Выявленный общий признак в 3 столбце	там у нас получается круговорот веществ природной системы
4. Выявленный признак во 2 столбце	<i>Земля</i>
5. Выявленный признак в 1 столбце	Земная поверхность






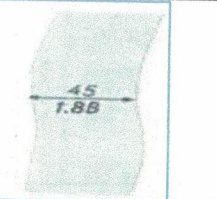

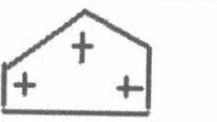
Шифр

7	-																		
---	---	--	--	--	--	--	--	--	--	--	--	--	--	--	--	--	--	--	--

6. Недостающее понятие в 3 строчке	Стратосфера живое пространство 1
7. Недостающие понятия в 4 строчке	Круловожат 0



2

Задание № 3. «Топографическое»

Условный знак на топографической карте	Название условного знака	Номер объекта на Рисунке (если обозначен)
	леса	1 0,5
	дорога	5 0
	луга	3 0
	церковь	2 0,5
	высокотравные леса 0,5	1 0,5
	река 0,5	4 0,5
	луга 0,5	3 0,5
	кладбище	2

Шифр

7	-																			
---	---	--	--	--	--	--	--	--	--	--	--	--	--	--	--	--	--	--	--	--

	лист деревянный	0,5	①	5 0,5
	лес	0		1

5,5

Задание № 4. «Краеведческое»

Вопрос	Ответ
1. Запишите имя исследователя, о котором рассказывается в тексте?	краеведческое В.К. Арсеньев 1
2. Какую горную систему на территории Хабаровского края изучал путешественник?	состав горы Сихотанский
3. Этнограф всегда сопровождал проводник и друг. Назовите его.	Крыскалов ①
4. В экспедициях очень трудно хранить провизию. Путешественник, о котором рассказывается в тексте, придумал способ сохранить в экспедициях продукты. Поэтому, чтобы сохранить муку в тайге от сырости нужно мешок с мукой (закончите предложение)	складывать ватой в мешок в ваду по зубам так что-бы было прокладкой, вата и ватушки 0

Шифр

8	-																		
---	---	--	--	--	--	--	--	--	--	--	--	--	--	--	--	--	--	--	--

**Всероссийская олимпиада школьников по географии
школьный этап 2022-2023 учебный год
8 класс**

ЛИСТ ОТВЕТОВ

Участник олимпиады	
Фамилия	<i>Сторова</i>
Имя	<i>Арина</i>
Отчество	<i>Лавровна</i>

Баллы

№ задания	1	2	3	4	Тесты
Количество баллов	<i>12,5</i>	<i>9,5</i>	<i>4,5</i>	<i>2</i>	<i>17,5</i>
Подпись члена жюри					
Сумма баллов и подпись председателя	<i>41</i>				

Шифр

8	-																		
---	---	--	--	--	--	--	--	--	--	--	--	--	--	--	--	--	--	--	--

Всероссийская олимпиада школьников по географии
школьный этап 2022-2023 учебный год

8 класс

Бланк ответов учащегося для заданий тестового тура

№ вопроса	Правильный ответ (элементы ответа)			
1.	В		1	
2.	Б		1	
3.	Г		1	
4.	В		0	
5.	Г		1	
6.	1-Б 2-Г	3-Б	1	
7.	А/Б		1	
8.	1-Г		1	
9.	А		1	
10.	1-Б 2-Г	3-Г 4-Б	5-А	2,5
11.	1-А, 2-Б	3-Г 4-А	5-Б	2,5
12.	1-Б 2-Б	3-А 4-Г	5-Б	2,5
13.	1-Б	2-Б	3-А 4-Г	2
14.	Б		1	
15.	А		0,5	

17,5

Шифр

8

-

Теоретический тур

Задание № 1. «Историческое»










№	Вопрос	Ответ
1.	Кто и когда организовал уникальную экспедицию?	Фернан Магеллан В сентябре 1519 года - 1522 года
2.	Какое значение имела эта экспедиция в развитии географических знаний о планете?	Первое круговое путешествие установило истинность шарообразности земли. Было доказано единство мирового океана.
3.	Какие имена носили корабли этой морской экспедиции?	Сан-Антонио, Санта-Яго, Виктория, Консепсьон Тринидад. 2, 5.
4.	Что написано на гербе, который испанский король даровал капитану корабля, вернувшегося на родину? Назовите его имя и корабль.	Корабль "Виктория" Хуан Элькано 2, 5.
5.	Среди мореплавателей есть такие, кто повторил такое путешествие, а один даже трижды. В таблице представлены даты их путешествий и названия кораблем. Назовите их имена и страны.	1519 - 1522 - Фернан Магеллан 1577 - 1580 - Френсис Дрейк 1768 - 1771 - Джеймс Кук 1771 - 1775 - Джеймс Кук 1776 - 1780 - Джеймс Кук 1803 - 1806 - Крузенштерн и Лисянский 1819 - 1821 - Азарев и Беленгаузер Хаттерекс 1961 58

12,5

Шифр


8	-																	
---	---	--	--	--	--	--	--	--	--	--	--	--	--	--	--	--	--	--

Задание № 2. «Топографическое»

Условный знак на топографической карте	Название условного знака	Номер объекта на Рисунке (если обозначен)	Расшифровка текстовых подписей условных знаков
	отдельные рошчи	1	0
	плотина		0
	вырубленный лес		0,5
	скважина 0,5	2 0,5	1
	лиственный лес		0
	ширина реки		0
	лугов 0,5	3 3 0,5	1
	капеллице		0,5
	река шире 3х метров		0

Шифр

8	-																		
---	---	--	--	--	--	--	--	--	--	--	--	--	--	--	--	--	--	--	--

	<p>Смешанное лиственное хвойное дерево</p>	0,5
---	--	-----

35

Задание № 3. «Стихийные бедствия»

№	Вопрос	Ответ
1.	Название страны 1	Япония 0,5
	Название страны 2	Филиппины 0,5
2.	Названия морей омывающих 1 страну	Японское, Восточно-китайское (и Филиппинское) моря 2,5
	Названия морей омывающих 2 страну	Сулавеси, Филиппинское и Южно-китайское моря
3.	Стихийные бедствия	(катаклизмам) - землетрясения, цунами 1
4.	Причины стихийных бедствий	0

41,5

Шифр

8	-																		
---	---	--	--	--	--	--	--	--	--	--	--	--	--	--	--	--	--	--	--

Задание № 4. «Краеведческое»

Вопрос	Ответ
1. Запишите имя исследователя, о котором рассказывается в тексте?	Владимир Клавдиевич Арсеньев 18
2. Какую горную систему на территории Хабаровского края изучал путешественник?	Сихотэ - Алия 18
3. Этнограф всегда сопровождал проводник и друг. Назовите его.	Дерсу Узана
4. В экспедициях очень трудно хранить провизию. Путешественник, о котором рассказывается в тексте, придумал способ сохранить в экспедициях продукты. Поэтому, чтобы сохранить муку в тайге от сырости нужно мешок с мукой <hr/> (закончите предложение)	

28

Шифр

9	-																		
---	---	--	--	--	--	--	--	--	--	--	--	--	--	--	--	--	--	--	--

**Всероссийская олимпиада школьников по географии .
школьный этап 2022-2023 учебный год**

9 класс

ЛИСТ ОТВЕТОВ

Участник олимпиады	
Фамилия	Дрица
Имя	Марина
Отчество	Витальевна

№ задания	Баллы				Тесты
	1	2	3	4	
Количество баллов	4	8,5	6,5	3	14,75
Подпись члена жюри					
Сумма баллов и подпись председателя	36,5				

Всероссийская олимпиада школьников по географии
школьный этап 2022-2023 учебный год
9 класс

Лист ответов
Тестовый тур

№	Ответ
1	B 1
2	A 0
3	B 0
4	Г 0
5	B 0
6	B 1
7	A 1
8	A 1
9	A 0
10	B 1
11	Г 1
12	A 1
13	B 1
14	A-5 B-4 A-2 : 0 B-3 Г-1
15	A, A 1
16	0
17	0
18	A-5 B-1 A-2 2,5 B-4 Г-3
19	A-1 B-4 A-2 2,5 B-5 Г-3
20	A-3-I B-5-IV ← 1-III 0,75 B-2-V Г-4-II

14,25






0,75

Теоретический тур











Задание № 1. «Космический снимок»

№	Вопрос	Ответ
1	Как называется этот искусственный гидрографический объект?	Судыный канал 18
2	Какие части света он разъединяет?	Азия и Европа, Африку 18
3	Какие водные объекты он соединяет?	0
4	Какие города расположены на берегу объекта?	0
5	На территории какого государства расположен этот гидрографический объект?	Египет 18
6	Столица государства, на территории которого расположен этот гидрографический объект?	Каир 18
7	Почему этот объект без шлюзов?	0

Задание № 2. «Картографическое»

Контур озера	Название	Материк	Происхождение	Сведения
 А	Каспийское озеро (сторел) 0,5	Евразия	Океаническое	Уровень озера находится ниже уровня Мирового океана. Оно расположено преимущественно в зонах полупустынь и пустынь внутренней области материка
 Б	Виктория 0,5	Африка 0,5	Тектоническое 0,5 1,5	На территории озера находятся знаменитые заповедники и национальные парки. Наиболее интересен национальный парк острова Рубондо.
 В	Большое Кевольмье		Остаточное	В течение своей истории оно неоднократно претерпевало трансгрессии и регрессии — увеличения и последующие
 Г	Танганьика	Африка	Вулканическое	В Республике Малави, которой принадлежит большая часть побережья, оно официально называется Малави, по названию страны и этнической группы. В Танзании и Мозамбике используется географическое название.
 Д	Онтарио	Северная Америка 0,5	Ледниковое 0,5	Пятое по величине озеро материка. Оно

Задание № 3. «Топографическое»

Условный знак на топографической карте	Название условного знака	Номер объекта на Рисунке (если обозначен)	Расшифровка текстовых подписей условных знаков
	Хвойный лес		0,5
	двухпутные железные дороги		0,5
	вырубленные леса		0,5
	церковь	2	18
	Отдельно стоящие деревья (берёзы)	1 0,5	по метрической шкале 0,5
	?	4 0,5	0,5
	луга 0,5	3 0,5	18
	Кладбище 0,5	0	0,5
	деревяный лес 0,5	5 0,5	18
	Отдельно стоящие хвойные деревья 0,5		0,5

9	-																		
---	---	--	--	--	--	--	--	--	--	--	--	--	--	--	--	--	--	--	--

Задание № 4. «Историческая география»

Вопрос	Ответ
1. Назовите имя натуралиста, о котором говорится в Указе президента РФ?	В.К. Арсеньев 1
2. В качестве кого совершил первые свои экспедиции по югу Дальнего Востока?	
3. Перед вами памятник на сопке Увальной. В каком городе он возведен?	город Арсеньев 1
4. Какие книги написал путешественник, в честь которого разработан фирменный знак, и с какой целью?	
5. Запишите фамилию норвежского путешественника	Ф. Хансен. 1

38

Шифр

10	-																		
----	---	--	--	--	--	--	--	--	--	--	--	--	--	--	--	--	--	--	--

Всероссийская олимпиада школьников по географии
школьный этап 2022-2023 учебный год
10 класс

ЛИСТ ОТВЕТОВ

Участник олимпиады	
Фамилия	Старшаков
Имя	Артём
Отчество	Максимович

№ задания	Баллы				Тесты
	1	2	3	4	
Количество баллов	2,5	3	10	3,5	13,5
Подпись члена жюри					
Сумма баллов и подпись председателя	52,5				

Шифр

10	-																		
----	---	--	--	--	--	--	--	--	--	--	--	--	--	--	--	--	--	--	--

**Всероссийская олимпиада школьников по географии
школьный этап 2022-2023 учебный год**

10 класс

Бланк ответов учащегося для заданий тестового тура

№ вопроса	Правильный ответ (элементы ответа)
1.	Г 0,5
2.	А-3 Б-2 В-4 Г-1 2,5
3.	А 0
4.	Б 0,5
5.	Б 0
6.	Б 1
7.	Б 1
8.	А 0
9.	А 0
10.	Б 1
11.	Г 1
12.	А 0
13.	Б 1
14.	А 0
15.	А 1
16.	Б Б 1
17.	Б 0
18.	БГ 1
19.	Г 0
20.	1-А 2-Б 3-ВГ 4-ГВ 5-ВГ 2,58

13,5

Шифр

10	-																		
----	---	--	--	--	--	--	--	--	--	--	--	--	--	--	--	--	--	--	--

Теоретический тур

Задание № 1. «Родина футбольных клубов»

№	Ответ	
	Клуб	Город
1.	«Шинник»	ТУЛА Ярославль 0,5
2.	«Арсенал»	ВЛАДИКАВКАЗ Тула 0,5
3	«Нефтехимик»	Магнитогорск 0
4	«Уралмаш»	Красноярск 0
5	«Океан»	Набережные Челны 0,5
6	«Металлург»	ЕКАТЕРИНБУРГ Челябинск Находка
7	«Самотлор»	Нижневартовск 0,58
8	«КамАЗ»	Ярославль
9	«Енисей»	Екатеринбург
10	«Алания»	НИЖНЕКАМЫСК Владикавказ 0,5

2,5

Шифр

10	-																			
----	---	--	--	--	--	--	--	--	--	--	--	--	--	--	--	--	--	--	--	--

Задание № 2. «Историческая география»

№		Ответ
1.	Запишите имя натуралиста, о котором говорится в Указе президента РФ?	В. К. Арсеньев 1
2.	Какую горную систему на территории Хабаровского края изучал путешественник?	Сихотэ-Алинь 1
3.	В качестве кого совершил первые свои экспедиции по югу Дальнего Востока?	
4.	Кто был кумиром путешественника, очерки которого были первыми настольными книгами об Уссурийском крае?	Пржевальский Ж. О. 1
5.	Чтобы сохранить муку в тайге от сырости нужно мешок с мукой	





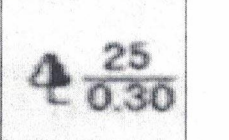
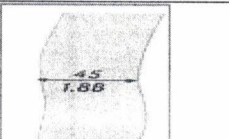

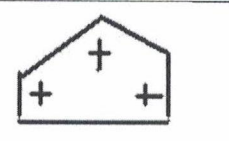


38

Шифр

10

-

Задание № 3. «Топографическое»

Условный знак на топографической карте	Название условного знака (цифровые обозначения)	Номер объекта на Рисунке (если обозначен)
	ХВОЙНЫЙ ЛЕС	НЕТУ 0,5
		0
	ВЫРУБЛЕННЫЙ ЛЕС	НЕТУ 0,5
	ЦЕРКОВЬ	2 15
	^{ое} дерево метровой ее стожимости дерева 25, и диаметром кроны 0.30	1 25
	Катав РЕКА с шириной 45, и глубиной 1.88	4 25
	Болото ЛУГ	3 25
	ЦЕРКОВЬ КЛАДБИЩЕ	НЕТУ 0,5
	ДЕРЕВЯННЫЙ МОСТ	5 15
	Хвой одного вида хвойное дерево	НЕТУ 0,5

10

Шифр

10	-																			
----	---	--	--	--	--	--	--	--	--	--	--	--	--	--	--	--	--	--	--	--

Задание № 4. «Путешествие по Транссибу»

№	Город	Реки	Природная зона	Субъект РФ	Экономический район
1. 5	БЕЛГОРОД 0,25		Тайга		
2. 3	Новосибирск 3 к 0,25		лесостепь Тайга 0,25		
3. 2	ПЕРМЬ 0,25		Тайга 0,25		
4. 1	УРСАЛЬ 0,25		Тайга		
5. 4	Улан-Удэ 0,25		Тайга 0,25		
6.	Казань 0,25	0,25 Амур	Тайга 0,5	0,25 Казанский край	Равнинный

1,5

3,5

Шифр

11	-																		
----	---	--	--	--	--	--	--	--	--	--	--	--	--	--	--	--	--	--	--

**Всероссийская олимпиада школьников по географии
школьный этап 2022-2023 учебный год
11 класс**

ЛИСТ ОТВЕТОВ

Участник олимпиады	
Фамилия	Солдатов
Имя	Анастасия
Отчество	Иерьевна

№ задания	Баллы				Тесты
	1	2	3	4	
Количество баллов	4	1,5	4,5	0	14
Подпись члена жюри					
Сумма баллов и подпись председателя	24				

Шифр

11	-																		
----	---	--	--	--	--	--	--	--	--	--	--	--	--	--	--	--	--	--	--

**Всероссийская олимпиада школьников по географии
школьный этап 2022-2023 учебный год**

11 класс

Лист ответов

№	Ответ
1	В 18
2	1-Б 2-А 3-Г 4-В
3	В
4	А-3; Б-2; В-4; Г-1 18
5	А 18
6	В 18
7	Б
8	Б 18
9	Г
10	Г 18
11	А
12	Б 18
13	ГА 18
14	В 18
15	Б 18
16	Г 18
17	Б 18
18	В 18
19	В
20	А 18

148

Шифр

11	-																		
----	---	--	--	--	--	--	--	--	--	--	--	--	--	--	--	--	--	--	--

Всероссийская олимпиада школьников по географии
школьный этап 2022-2023 учебный год
11 класс

Лист ответов

Задание № 1. «Белая ворона»

Строка	Лишний объект	Объяснение выбора	Продолжение ряда
А	Казахстан 0,5	Центральная Азия → Государство не входило в состав СССР, в отличие республик СССР. т.е. остальные государства Центральной Азии 10	0,5 20
Б			
В	Тайвань 0,5	Это перенаселенное государство Все остальные страны ООН 10	Колония Географическая группа - Стране 0,5 20
Г			