

Шифр 22011_соцраб_0701


Всероссийская олимпиада школьников по географии
школьный этап 2023-2024 учебный год

7 класс

ЛИСТ ОТВЕТОВ

Участник олимпиады	
Фамилия	Кривохино
Имя	Диа
Отчество	Алексеевна

Баллы

№ задания	1	2	3	4	5	Тесты
Количество баллов	7	5	4	6	8	19
Подпись члена жюри						
Сумма баллов и подпись председателя	59 (49) 					

7 класс


Бланк ответов учащегося для заданий тестового тура

№ вопроса	Правильный ответ (элементы ответа)
1.	1-б 2-г 3-б 1,5
2.	1-г 2-б 3-а 4-б 2,5
3.	б 1,5
4.	б, г 1,5
5.	б, в. 1,5
6.	а, б 1,5
7.	1-г, 2-б, 3-а, 4-б 2,5
8.	1-б, 2-б, 3-а, 4-г. 2,5
9.	1-а, 2-г. 1,5
10.	а, б, в. 1,5
11.	1-б, 2-а 1,5
12.	б 1,5
13.	б 1,5
14.	б 1,5
15.	б, г. 1,5

19,5

Теоретический тур
Теоретический тур

Задание 1. "Я в Хабаровском крае живу"

№	Вопрос	Ответ
1.	Определите, на каком рисунке изображен контур Хабаровского края?	Б. 1
2.	Используя политическую карту мира в атласе, определите, контуры каких территорий кроме Хабаровского края здесь изображены?	А - Аргентина 0,5 Б - Вьетнам 0,5 1 / (2)
3.	<p>Дополните рисунок с контуром Хабаровского края:</p> <p>а) подпишите стороны горизонта 1-</p> <p>б) море, которым омывается территория Хабаровского края 1-</p> <p>в) одну из крупнейших рек Евразии, протекающую по территории Хабаровского края Амур. 1-</p> <p>г) обозначьте место своего проживания (на карте) 1-</p>	
4.	Назовите три основные достопримечательности (интересные места) своего населенного пункта, которые вы предложили бы для ознакомления туристам из других регионов России.	<p>нашешко земликам Великой Отечественной Войны. 1?</p> <p>(Всего 1 достопримечательность)</p>

40

Шифр 22011-поцаря -0701

--	--	--

Задание №2 "Загадочный символ"

№	Вопрос	Ответ
1.	Название вулкана	вулканы Фризийские. 1
2.	Название океана	тихий океан. 1
3.	Название острова	о. Хонейо 1
4.	Почему больше всего осадков выпадает летом?	Потому что это сезон дождей. Летом муссонный ветер с Тихого океана приносит влагу. 1
5.	Время года	Зима, или переходный сезон (весна) 1
6.	Название страны	Япония. 1

60

Задание №3 "Улыбка Арктики"

№	Вопрос	Ответ
1.	О каком явлении писал в своем дневнике Г.А. Ушаков?	северное сияние 1
2.	В каких областях земного шара можно наблюдать данное явление?	побережье Северного Ледовитого океана 1
3.	Назовите причину возникновения явления, о котором писал Г.А. Ушаков	0
4.	В каких странах можно насладиться этим зрелищем?	Россия, Аляска, Исландия, Финляндия 0,5 0,5 0,5 0,5 0,5 0,5

100

Задание №4 "Мечта путешественника"

№	Вопрос	Ответ
---	--------	-------

Шифр 2 Фол. - географ - 07.01

1.	Как называются объекты?	<p>Старая башня</p> <p>А - Московский Кремль башня 0,5</p> <p>Б - Звонцовская башня 0,5</p> <p>В - Статуя свободы 0,5</p> <p>1,5</p>
2.	Города, в которых находятся объекты (страны)	<p>А - московская (кремль) (Москва, Россия) 0,5</p> <p>Б - Звонцовская башня (Париж, Франция) 0,5</p> <p>В - статуя свободы (Нью-Йорк, США) 0,5</p> <p>1,5</p>
3.	Определите координаты городов	<p>А - Спасенная башня - 55° сш. 36° зд. - 0</p> <p>Б - Звонцовская башня - 48° сш. 2° зд. 1</p> <p>В - статуя свободы - 40° сш. 74° зд. 1/20</p>

Задание №5 "Карта - второй язык географии"

№	Вопрос	Ответ
1.	Условный знак № 1	башня сооруженного типа 0,5
	Условный знак № 2	родник 0,5
	Условный знак № 3	церковь 0,5
	Условный знак № 4	селенский мост 0,5
2.	Через сколько метров проведены горизонталы?	через 2,5 м. 1
3.	Какова протяжённость маршрута А-В, если на карте она равна 4 см?	400 м 0,5
4.	На каком берегу реки Михалёвка находится луг?	то левый 1
5.	В каком направлении от условного знака № 1 находится условный знак № 3?	в северо-восточном 1
6.	Почему велосипедист, который едет по грунтовой дороге к реке, может практически не крутить педали? Как Вы это поняли?	велосипедист едет по склонам вниз. 2

85
теор - 30
всего 55

Шифр 227011 - география - 0901

Всероссийская олимпиада школьников по географии
школьный этап 2023-2024 учебный год
9 класс

Лист ответов

Тестовый тур

№	Ответ
1	A 1
2	B 1
3	B 1
4	B 1
5	B 1
6	B 1
7	Образ 1
8	B 1
9	A 1
10	A 1
11	A 1
12	B 1
13	B 1
14	B 1
15	B 1

тест. 15б

всего 49б

Шифр 227011 география 0901

Всероссийская олимпиада школьников по географии
школьный этап 2023-2024 учебный год
9 класс

Лист ответов

Теоретический тур

Задание №1 «Неповторимый облик»

1. Определи, о какой природной зоне говорится в отрывке стихотворения Николая Коротких	Тундра 10
2. Укажи, какой цифрой обозначена эта природная зона на карте...	2 10
3. Выбери из списка государственный заповедник, который находится на территории выделенной природной зоны	А. Государственный заповедник «Остров Врангеля» 10
4. Какая хозяйственная деятельность привела к возникновению городов данной природной зоны?	Добыча и переработка полезных ископаемых. Д. Торговое хозяйство. 10 / 10 = 20

58

Задание №2 «Читаем текст»

№	Ответ	№	Ответ
1.	Курильское 0,5	9.	Камчатка 0,5
2.	Охотское 0,5	10.	вулканическое 0,5
3.	Тихий 0,5	11.	альпийская 0,5
4.	Сахалин 0,5	12.	землетрясения 0,5
5.	Сахалинская 0,5	13.	цунами 0,5
6.	Итуруп 0,5	14.	Курило-Камчатский 0,5
7.	Вулкан 0,5	15.	Забаловство 0,5
8.	Атласова 0,5	16.	Япония 0,5

86

Шифр 227011 - географы - 0901

Задание №3 «Дорожная география»

1. В каком городе родился рассказчик, и на какой реке этот город расположен?	Омск, Омь 0,5 0,5
2. Где он учился (название города и реки)?	то Томск, Томь. 0,5 0,5
3. В какой город он едет?	Томск 1
4. В бассейне какой реки находится этот город?	Иртыш 1
5. Имя и отчество рассказчика?	Егорей Павлович 0,5 0,5

55


Задание №4 «Картографический тур»

А	3 1	Б	2 1	В	1 1
Г	5 1	Д	6 1	Е	4 1
Причины особенностей формы и глубины озера Г	Тектоническое происхождение, Восточно-Африканский разлом или рифтовая зона. нет разбегивания. - 1				

65

25.
85

Задание № 5 «Краеведение»

<p>1. Определите, территория какого муниципального района изображена на снимке.</p>	<p>Хабаровский 2,0</p>
<p>2. Какие крупные физико-географические объекты отображены на космическом снимке? Нанесите на снимок номерами.</p> 	<ol style="list-style-type: none"> 1. Петровская коса 0,5 2. Залив счастья 0,5 3. Азия 0,5 4. о. Сахалин 0,5 5. Охотское море 0,5 6. Татарский пролив 0,5 7. р. Амур 0,5 8. Амурский лиман 0,5 9. Сахалинский залив 0,5 <p style="text-align: right;"><u>4,5</u></p>
<p>3. Укажите, какими значимыми природными ресурсами богат этот муниципальный район Хабаровского края.</p>	<p>Рыбные, золото, лесные 1,5</p>

80.
Географ - 34.

Шифр 22801-почагме-0502

Всероссийская олимпиада школьников по географии
школьный этап 2023-2024 учебный год
5 класс

Лист ответов
Тестовый тур

№	Ответ
1	Г 1
2	В 1
3	Б 1
4	^{0,25 0,25 0,25 0,25} 1В, 2А, 3Г, 4Б 1
5	Восток 1
6	А, Б, В, Г 1
7	^{0,25 0,25 0,25 0,25} Австралия 1
8	Тихий 1
9	В 1
10	Б 1

$$\begin{array}{r} \text{тест} \quad 10 \times 1 = 10 \\ \text{теория} \quad - 12 \times 0,25 = 3 \\ \hline 19 \end{array}$$

Шифр 22001-географич - 0502

Задание № 1. «Сказочное»

Вопрос	Ответ
1. На каком материке живут большие звери, о которых говорится в сказке?	Африка 0,5
2. Какой географический объект называется "Занзибар"?	остров 0,5
3. Что общего у "Калахари" и "Сахара"?	это пустыни 0,5
4. Что такое широкая «Лимпопо»?	это большая равнина Африки 0,5
5. Какое животное спряталось под именем "Гиппо-по"?	жирафа или бегемот 0,5
6. Что за знаменитая гора есть на этом материке? Как называется? Какова её высота?	Вулкан Килиманджаро 0,5 5895 м 0,5
7. Какие ещё животные (с длинной шеей, с хоботом, с острыми зубами, с лохматой гривой, полосатой окраской, с рогом на носу) могли бы попасть в сказку?	слон, крокодил, львица, носорог. 0,5

Задание № 2 «Водное»

№	Вопрос	Ответ
1.	Человек моется водой сам, моет посуду, полы, стирает в ней белье. Какое свойство воды при этом использует человек?	вода почти растворяет все вещества 1
2.	Много рек течет со всех сторон в моря. Почему же море не переполняется и не заливают сушу?	действует круговорот воды в природе 1
3.	Зачем в крышке чайника делают небольшое отверстие?	для того чтобы избежать лишнего пара 1
4.	Летом по утрам часто можно на листьях кустарников и на траве появляется роса. Объясните, почему появляется роса.	0

5	Почему сырое белье, развешенное на балконе, в теплую погоду сохнет быстрее, чем в холодную?	чем теплее испаряющая жидкость тем быстрее происходит процесс
6	Почему ключевая вода в колодцах всегда чище, чем в реках или прудах?	почему ключевая вода проходит через песок вода очищается от мусора
7	Почему вода в глубоких колодцах и ключах всегда холодная?	глубинные воды не нагреваются солнцем
8	Часто воду называют «вечной страницей». К.Д. Ушинский называет её «неутомимая путешественница». Объясните, почему воде даны такие названия?	Круговорот воды происходит непрерывно
9	Почему вода в реках у берегов течет медленнее, чем в середине (стремнина реки)?	течение воды от берегов медленнее из-за трения о берега
10	М.Ю. Лермонтов в своем стихотворении «Тучи» написал: «Тучки небесные, вечные странники!..» Правильно ли поэт называет тучи вечными странниками?	невозь тучки странники, но не вечные идеально бы выглядели в воздухе на земле
11	Почему во время ледохода лёд плывет по поверхности воды и не тонет?	лёд легче воды
12	При постройке гидроэлектростанций реку перекрывают плотиной, поднимая уровень воды. Зачем это делают?	0
13	В чем сходство и в чем различие между туманом и облаком?	сходство: состоят из мельчайших капелек воды. различие: туман находится по земле облака - в атмосфере
14	Почему нашу планету было бы правильно назвать планета Океан?	большинство жизни на поверхности Земли занимает вода