

0801

298

Теоретический тур школьного этапа географии 8 класс

Задание 1

Ниже перечислены утверждения об одном материке. Определите, о каком материке идёт речь и укажите два лишних утверждения. К каким материкам относятся лишние утверждения?

1. Материк имеет самую ровную из всех материков береговую линию.
2. Большую часть занимают плато и плоскогорья.
3. На материке находится самое глубокое озеро планеты.
4. Часть рек летом пересыхают и можно наблюдать сухие русла.
5. Значительную часть материка занимают пустыни.
6. Обитают самые крупные млекопитающие суши.
7. На материке протекает самая полноводная река планеты.

45

15

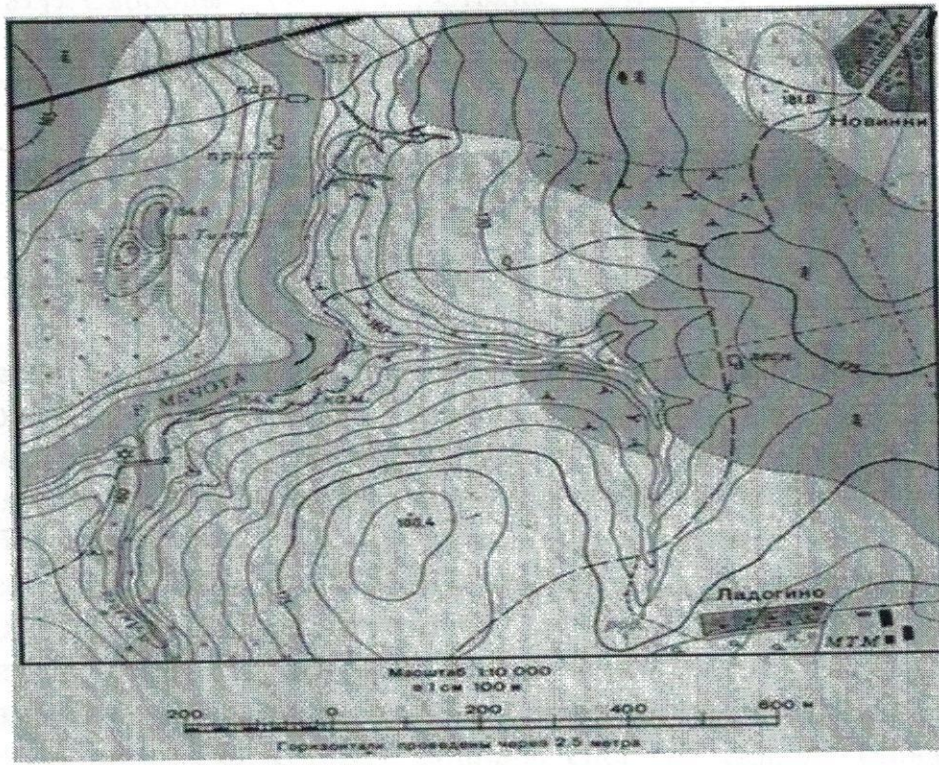
1, 2, 4, 5, 6 - Африка 15
 3 - Евразия 15
 7 - Северная Америка 15
 4 - Южная Америка 15

Задание 2

1. Используя топографическую карту, определите, можно ли увидеть из поселка Ладогино плотину, сооруженную на реке Андоге, свой ответ обоснуйте. *Нет, так как между ними есть возвышенность в 480 м*
2. Определите расстояние от пристани до порога. *100 м*
3. Определите по фрагменту топографической карты относительную высоту между самой высокой точкой и урезом воды реки Мечоты. *10000 м*

15 45

45




1. О какой природной зоне говорится в тексте? *широколиственный лес*
2. На каких материках она встречается? *Евразия, Австралия*
3. В каких странах мира можно увидеть такой ландшафт? *Россия, США*
4. Выпишите из текста 3 признака данной природной зоны. *широколиственный, высокие горы*
5. Почему поверхность представляет собой сплошное болото? *болотистая местн.*
6. Какие виды хозяйственной деятельности человек может осуществлять на территории этой природной зоны? *лесное хозяйство*

Задание 5

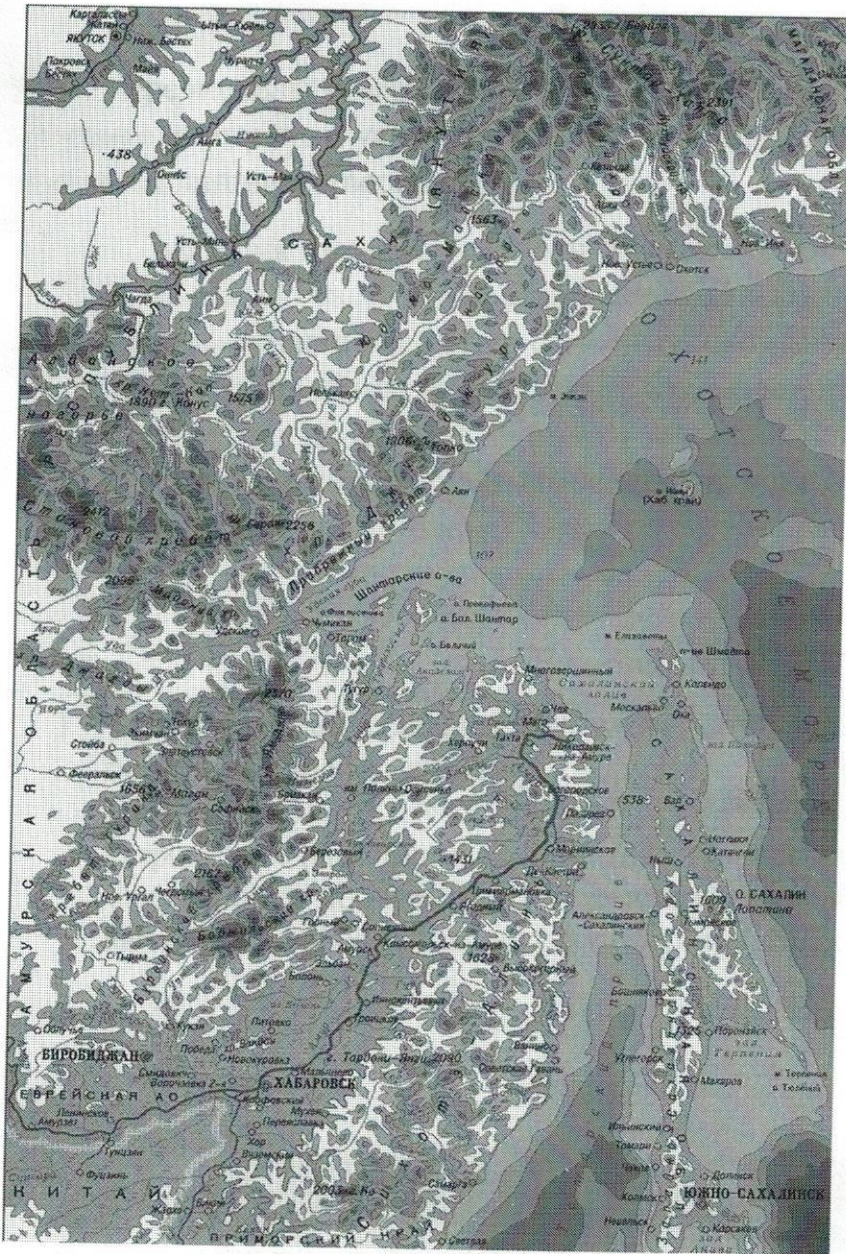
Одна из вершин горного хребта Сунтар-Хаята, является высочайшей точкой Хабаровского края. До 1955 года на картах обозначалась как гора Берия.

Выполните задания, используя карту в приложении.

1. Определите, как называется эта вершина? *Беринга*
2. По карте определите ее высоту. *2983 м*
3. В каком административном районе находится данная вершина. *Куртинский*
4. Почему ее переименовали? *в честь Берии*



88



1 часть

Тестовый тур

1. Какой материк описан в стихотворении:

*Там протекают реки без воды
Они в пустыне пропадают где-то.
Деревья сами лезут из коры,
Спасает юг от северной жары.*

- А) Африка
- Б) Австралия
- В) Евразия
- Г) Северная Америка

10

2. Месторождения каких полезных ископаемых есть и на Западно-Сибирской равнине, и на побережье Мексиканского залива?

- А) нефти
- Б) алмазов и золота
- В) каменного угля
- Г) торфа

10

3. Что нужно сделать для того, чтобы отпраздновать Новый год второй раз за сутки?

- А) пересечь нулевой меридиан с запада на восток
- Б) пересечь нулевой меридиан с востока на запад
- В) пересечь экватор с севера на юг по линии перемены дат
- Г) пересечь экватор с юга на север по линии перемены дат

10

4. Какой климатический пояс отсутствует на территории Северной Америки?

- А) умеренный
- Б) арктические
- В) тропический
- Г) экваториальный.

5. Выберите правильный ответ

Характерными чертами рельефа Африки являются:

- 1) преобладание высоких равнин и наличие крупнейшей рифтовой зоны суши
- 2) здесь расположены самые высокие горы планеты и самая глубокая впадина суши

- А) верно только 1
- Б) верно только 2
- В) оба ответа верны

10

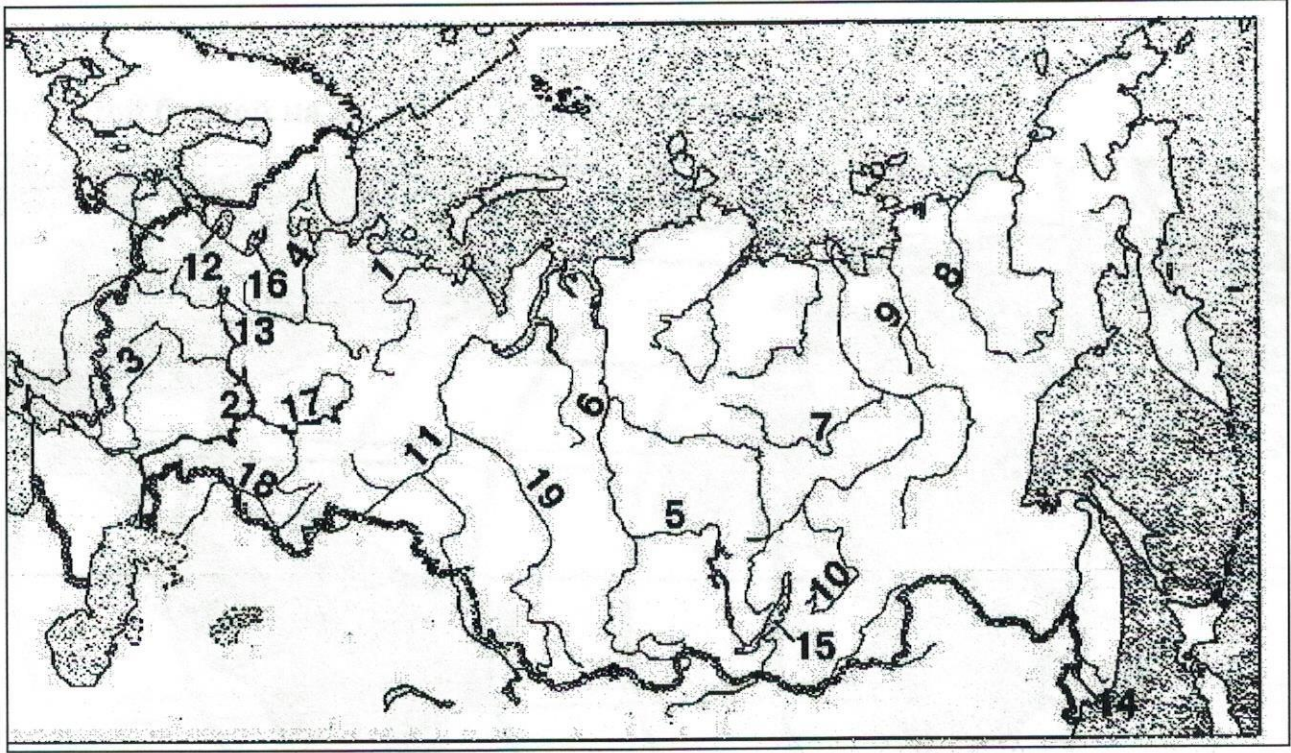
6. Это пресмыкающееся встречается по руслу рек Амур и Уссури и в устьях их притоков, проникая к северу до Комсомольского района. Летом заселяет неглубокие озера. На зимовку уходит с середины сентября. Зимует в водоемах, закапываясь в донный ил, песок.

- А) Амурская долгохвостка
- Б) Дальневосточная черепаха
- В) Дальневосточная жаба



7. Какими цифрами на карте обозначены:




- А) река Иртыш 13
- Б) озеро Ханка 14
- В) река Витим 10
- Г) река Яна 19
- Д) озеро Байкал 15

0,85
4 / 10



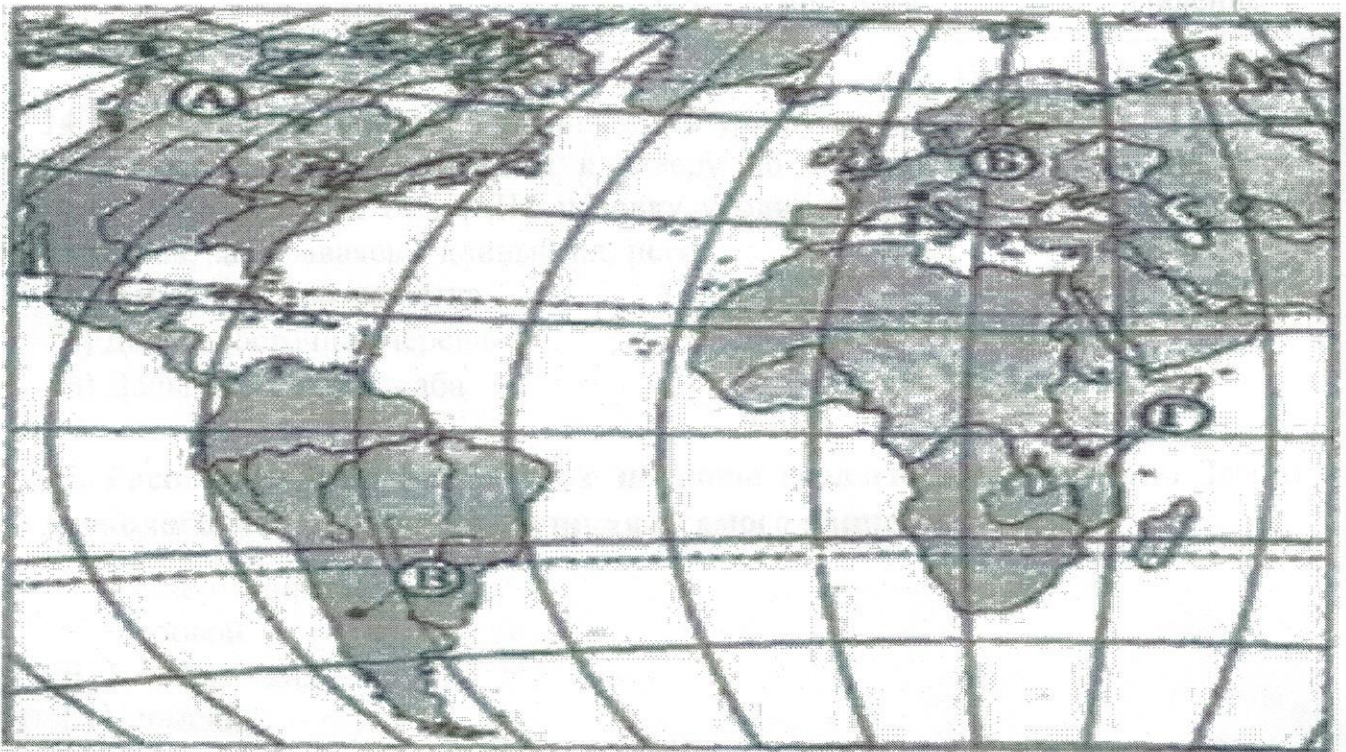
8. Найди соответствие: название прибора - рисунок, на котором он изображен.

<ul style="list-style-type: none"> А) термометр 3 Б) барометр 4 В) психрометр 5 Г) осадкомер 2 Д) флюгер 1 	<p>1.</p> 	<p>2.</p> 
---	---	---

3.	4.	5.
		

9. Какой буквой на карте обозначен вулкан Килиманджаро? Г

15



10. Исключи из списка слова, не подходящие по признаку:

- A) С-Петербург, Н.Новгород, Токио, Омск.
- B) Река, полуостров, море, озеро
- B) Дуб, ель, секвойя, лиственница, лес
- Г) Сахалин, Гренландия, Сицилия, Нов. Гвинея, Индонезия.
- ~~Д) Сахара, Калахари, Чад, Гималаи, Каракумы~~

11. Дополните следующие формулировки:

- A) Наибольшие площади зона саванн и редколесий занимает в *Южной Африке*
- B) Наиболее безжизненна зона *Северных* пустынь *Арктических*
- B) Леса полностью отсутствуют на материке *Антарктида*
- Г) Кампос – это природная зона, которая находится на *Бразильской* плоскогорье

Бразильская 0,25
18

12. Установите соответствие:

Высшая точка

- 1) гора Косцюшко
- 2) гора Джомолунгма
- 3) гора Аконкагуа
- 4) гора Мак – Кинли
- 5) вулкан Килиманджаро

Материк

- А) Африка
- Б) Южная Америка
- В) Северная Америка
- Г) Австралия
- Д) Евразия

A-5 0,25
 B-3 0,25
 B-4 0,25
 Г-1-0,25
 Д-2 0,25

1,25

13. Определите физико-географические закономерности в предложенной цепочке, раскрывающей причину образования ветра. Представьте это цепочкой букв.

А) Солнце	Б) Ветер	В) Температура воздуха	Г) Атмосферное давление
-----------	----------	------------------------	-------------------------

A B Г Б A

14. Это пресмыкающееся встречается по руслу рек Амур и Усури и в устьях их притоков, проникая к северу до Комсомольского района. Летом заселяет неглубокие озера. На зимовку уходит с середины сентября. Зимует в водоемах, закапываясь в донный ил, песок.

- А) Амурская долгохвостка
- Б) Дальневосточная черепаха
- В) Дальневосточная жаба

10

15. Расположите перечисленные периоды геологической истории Земли в хронологическом порядке, начиная с самого раннего:

- А) Четвертичный
- Б) Меловой
- В) Кембрийский
- Г) Пермский

Б А В Г

/ 0201

138

Всероссийская олимпиада школьников по географии
школьный этап 2019-2020

Часть 1

Тестовые задания

7 класс

1. Что нужно сделать для того, чтобы отпраздновать Новый год второй раз за сутки?

- А) Пересечь нулевой меридиан с запада на восток; 18
Б) Пересечь нулевой меридиан с востока на запад;
В) Пересечь экватор с севера на юг по линии перемены дат;
Г) Пересечь экватор с юга на север по линии перемены дат;

2. Какой из нижеуказанных архипелагов посещал Фернандо Магеллан?

- А) Алеутские острова;
Б) Багамские острова;
В) острова Галапагос; 18
Г) Марианские острова;

3. Какое средство Джеймс Кук стал использовать против цинги на своих судах?

- А) квашеную капусту 18
Б) доброе слово
В) яблоки
Г) индийские пряности

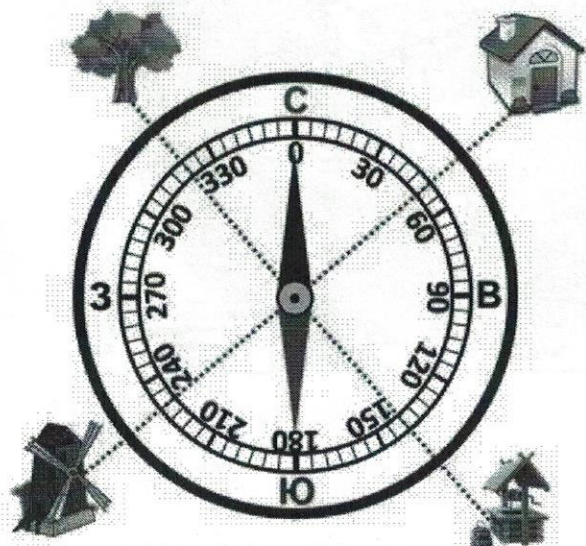
4. Определите океан по описанию: «Площадь 91,6 млн. кв. км, из которых около четверти приходится на внутриконтинентальные моря. Площадь прибрежных морей невелика и не превышает 1% от общей площади. Объем океана - это 25% от объема Мирового океана. Средняя глубина 3736 м, наибольшая - 8742 (желоб Пуэрто-Рико). Среднегодовая соленость вод океана составляет около 35‰».

- А) Атлантический 18
Б) Северный Ледовитый
В) Индийский
Г) Тихий

5. Этот материк расположен в западном и восточном полушариях был открыт русскими мореплавателями самым последним в 1820 г.. О каком материке идет речь?

- А) Африка
Б) Антарктида
В) Евразия
Г) Австралия

6. Соотнесите нарисованный объект с его азимутом:



- | | |
|-------------|---------|
| 1) Домик | А - 230 |
| 2) Колодец | Б - 50 |
| 3) Мельница | В - 320 |
| 4) Дерево | Г - 140 |

Handwritten notes: A table with columns 1, 2, 3, 4 and rows Б, В, А, Б. Below it, the number 0,25 is written four times with arrows pointing to the columns. To the right, there is a handwritten '15'.

7. Выбери лишнее, свой выбор объясни.

- 1) Фернандо Магеллан
- 2) Христофор Колумб
- 3) Джеймс Кук
- 4) И.Ф. Крузенштерн

8. Выберите путешественника, который не исследовал территорию Хабаровского края:

- А) Е.П. Хабаров Б) Н.М. Пржевальский В) В.К. Арсеньев Г) Н. И. Вавилов

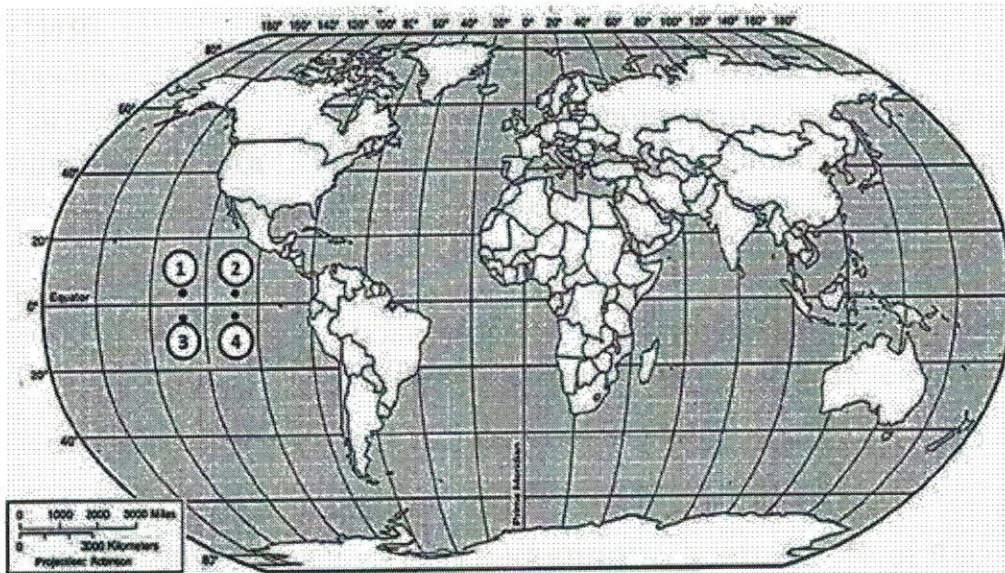
Handwritten '15' next to the list.

9. Какое место по площади занимает Хабаровский край в России?

- А) 1 Б) 2 В) 3 Г) 4

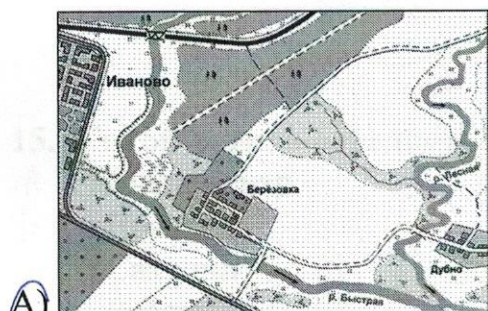
10. Какая из обозначенных на карте мира точек имеет географические координаты 5° с. ш. и 110° з. д.?

Handwritten answer: - Актааркитица

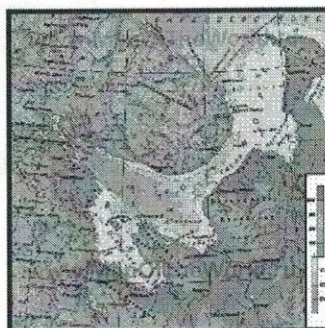


- 1) А
- 2) Б
- 3) В
- 4) Г


11. Выбери лишнее изображение



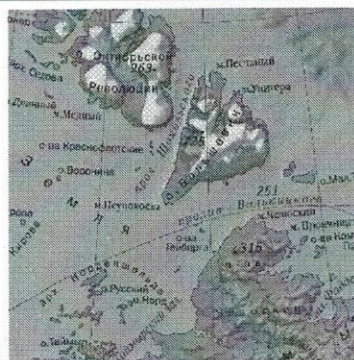
А)



Б)



В)



Г)

12. Соотнесите названия стран и характерные для них особенности территории или географического положения.

- А) «страна-материк»
- Б) «карликовое государство»
- В) островное государство
- Г) внутриконтинентальное государство

- 1. Австралия
- 2. Монако
- 3. Монголия
- 4. Филиппины
- 5. Франция

А - 1 0,25
 Б - 2 0,25
 В - 4 0,25
 Г - 3 0,25

13. Найдите соответствие

15

ПОНЯТИЯ

- 1. Параллель
- 2. Берг-штрихи
- 3. Абсолютная высота
- 4. Географическая карта

ОПРЕДЕЛЕНИЯ

- А) Неровности земной поверхности
- Б) Это условно проведенная линия по земной поверхности параллельная линии экватора
- В) Это уменьшенное изображение земной поверхности на плоскости при помощи условных знаков
- Г) Это превышение точки земной поверхности над уровнем моря
- Д) Линии, показывающие направление склонов

Ответ:

1	2	3	4	5
8	9	Г	Б	А

14. В мультфильме «Зима в Простоквашино» машина Дяди Федора застряла в яме. А как такую форму рельефа показывают на топографических картах?

А)



Б)



15. Какой остров отделяется от материка проливом Г.И. Невельского?

- А 1) Мадагаскар
- Б 2) Врангеля
- В 3) Сахалин
- Г 4) Русский

0701

318

Задание 1

Определите с помощью атласа по географическим координатам вершины крупных горных систем нашей планеты:

- 1) 28° с. ш. 87° в. д. - *гора Шивалая - Гималаи, Китай - Индия, 8848*
- 2) 36° ю. ш. 148° в. д. - *гора Мак-Кинли, Аляска, 6960 - Аляска, 0,5 + 0,5*
- 3) 33° ю. ш. 70° з. д. - *гора Косцюшко, 2228 - Австралия, 0,5*
- 4) 65° с. ш. 60° в. д. - *гора Мундфогель - Уральские горы, 1825 - 0,5, 0,5*
- 5) 31° с. ш. 7° з. д. - *гора Эльб - Африка, 465 - Марокко, 0,5 + 0,5*

Напишите:

1. названия вершин и горных систем, в которых они расположены;
2. определите абсолютную высоту вершин.
3. на территории какого государства расположены вершины этих гор

88

Задание 2

Этот пролив, являющийся мировым рекордсменом сразу по нескольким номинациям, назван по имени англичанина - руководителя второй кругосветки, который собственно и проплыл по проливу первым из европейцев. Для пролива типичны частые шторма.

Назовите пролив, укажите океаны он соединяет, какие материки разъединяет.

*Пролив Дрейка, 16 Тихий - Атлантический, 16
Меж. Америка и Антарктида*

Назовите, в каких номинациях пролив является рекордсменом, объясните, почему там бывают самые частые и сильные ветра

самый широкий, самый глубокий, самый штормовый, 1 + 1/20

4/5

Задание 3

Этот объект - крупнейший на Земле замкнутый водоем, расположенный в двух частях света. Его воды омывают берега 5 стран. В водоём впадает 130 рек, в том числе и одна из крупнейших рек Европы. Много веков назад водоем называли Хвалынским морем, Дербентским морем. Северная часть водоема зимой покрыта льдом, в то время как южная остается незамерзающей.

Назовите объект, о котором идет речь в тексте. Укажите название стран. Как называется крупнейшая река Европы, впадающая в водоем. Какой тип устья характерен для этой реки.

~~река Волга~~

Каспийское море

25

1) Азербайджан 15

2) Иран 15


3) Казахстан 15

4) Россия 15

5) Туркменистан 15

Река Волга 15

85



Задание 4

О каких видах атмосферных осадков говорится в следующих литературных отрывках и загадках?

1. Огородные грядки были посыпаны крупной солью мороза.
(К.Г. Паустовский)

град 15

2. Когда в солнечное утро летом пойдешь в лес, то на полях в траве видны алмазы.
(Л.Н. Толстой)

роса 15

3. Грянул гром неожиданно, наобум —
Яростный удар и гул протяжный.
А потом пронесся легкий шум,
Торопливый, радостный и влажный.
(С.Я. Маршак)

дождь 15

4. И вот сентябрь! И вечер года к нам
Подходит. На поля и горы
Уже мороз бросает по утрам
Свои серебристые узоры.
(Е.А. Баратынский)

~~зачеркнуто~~
иней
заморозок

15 / 45

Задание 5

Маша решила рассказать своей подруге, проживающей в столице России о наиболее интересных объектах на территории Хабаровского края, вошедших в проект «7 чудес Хабаровского края» Назовите эти объекты и главные особенности, по которым их включили в этот проект.

Амурский мост 10
Тропа «Страна Дуся жив» 10
Шантарские острова 10
Озеро Амур 10
Амурский мост 10
Мосты Камаров 10
А. Лемогинский Сталин-Амур 10

У +

Этот объект - крупнейший на Земле замкнутый водоем, расположенный в двух частях света. Его воды омывают берега 5 стран. В водоём впадает 130 рек, в том числе и одна из крупнейших рек Европы. Много веков назад водоем называли Хвалынским морем, Дербентским морем. Северная часть водоема зимой покрыта льдом, в то время как южная остается незамерзающей.

050.01

148

Часть 1

Тестовые задания

5 класс

1. Термин «белые пятна» в географии означает:

- А) территории, покрытые снегом
- Б) пустыни, нанесенные на географическую карту
- В) территории, неизвестные человеку
- Г) территории, незаселенные людьми.

15

2. Високосный год состоит из ... дней:

- А) 363
- Б) 364
- В) 365
- Г) 366

15




3. Определите природную зону по описанию: «Весь год держатся низкие температуры, осадки выпадают редко, преимущественно в виде снега, растительность карликовая, встречаются лемминги и песцы, бывают полярные дни и полярные ночи».

- А) степь
- Б) арктическая пустыня
- В) тундра
- Г) саванна

15

4. Какое полезное ископаемое спрятано в загадке? Соотнеси его название с рисунком.

<p>1. <input checked="" type="radio"/> Д</p> <p>Покрывают им дороги, Улицы в селении, А еще он есть в цементе, Сам он – удобрение.</p>	<p>А.</p> 
<p>2. <input type="radio"/> Г</p> <p>Без нее не побежит, Ни такси, ни мотоцикл,</p>	<p>Б.</p> <p><i>резина</i></p>

<p>Не поднимется ракета Отгадайте, что же это?</p>	
<p>3. Он черный и блестящий, Людям – помощник настоящий. Он несет в дома тепло, От него в домах светло. Помогает плавить стали, Делать краски и эмали.</p>	<p>В.</p>  <p><i>графит</i></p>
<p>4. Оно варилось в доменной печи, Чтобы потом нам сделать Ножницы, ключи.</p> <p><i>сталь</i></p>	<p>Г.</p> 

10, 2Г, 3А, 4В,

5. Самая точная пространственная модель Земли – это

- А) Карта
- Б) Глобус
- В) План
- Г) Атлас

15
15

6. Самый большой океан Земли – это

- А) Индийский
- Б) Северный Ледовитый
- В) Тихий
- Г) Атлантический

15

7. Выберите, какая из перечисленных рек протекает по территории Хабаровского края:

- А) Волга
- Б) Урал
- В) Амур
- Г) Дон

15

8. На каком материке располагается самое глубокое озеро планеты?


- А) Северная Америка
- Б) Африка

В) Австралия


Г) Евразия

18


9. Какое животное не обитает на материке Африка?




А)



Б)



В)



Г)

10

10. Какие животные никогда друг с другом не встречаются, но обитают в одних широтах?

- А) пингвины и белые медведи
- Б) морские котики и морские львы
- В) олени и лисицы
- Г) слоны и жирафы

11. В каком направлении перемещаются школьники, если Полярную звезду они видят слева от себя?

- А) на юг
- Б) на восток
- В) на север
- Г) на запад
- Д) на юго-запад
- Е) на северо-запад
- Ж) на северо-восток

10

12. На каком материке расположен край, в котором ты живешь?

- А) Африка

- Б) Австралия
 В) Евразия
Г) Северная Америка

18

13. Вспомните правила пользования компасом и расположите в верной последовательности этапы этого процесса. Укажите правильную последовательность действий из представленных ниже.

- 1) Медленно, стараясь не потревожить стрелку, вращайте компас, пока синее острие стрелки не будет указывать на букву «С» (или «N») на шкале.
 2) Установите компас на горизонтальной поверхности (сильный наклон может помешать движению стрелки).
3) Подождите, пока стрелка остановится, её синие острие будет указывать на север.

- А) 123
 Б) 213
В) 231
Г) 321

— 18

14. Наука о создании и использовании карт называется:

- А) геометрия
 Б) картография
В) топонимика.

18

15. Выберите полушария, на которые делит земной шар экватор

- А) северное
Б) восточное
 В) южное
Г) западное

0,5

0,5

18

148

05.01

388

Всероссийская олимпиада школьников по географии
школьный этап 2019-2020
5 класс

1 часть

Тестовый тур

Задание 1

Из предложенного списка выберите не менее шести объектов, относящихся к нашей стране – России

Список: Байкал, гора Эверест, Амазонская низменность, город Москва, гора Анды, Восточно-Европейская равнина, река Нил, Уральские горы, озеро Виктория, остров Сахалин, город Нью-Йорк, река Волга, горы Атлас, вулкан Ключевская сопка, город Хабаровск.

итого 8

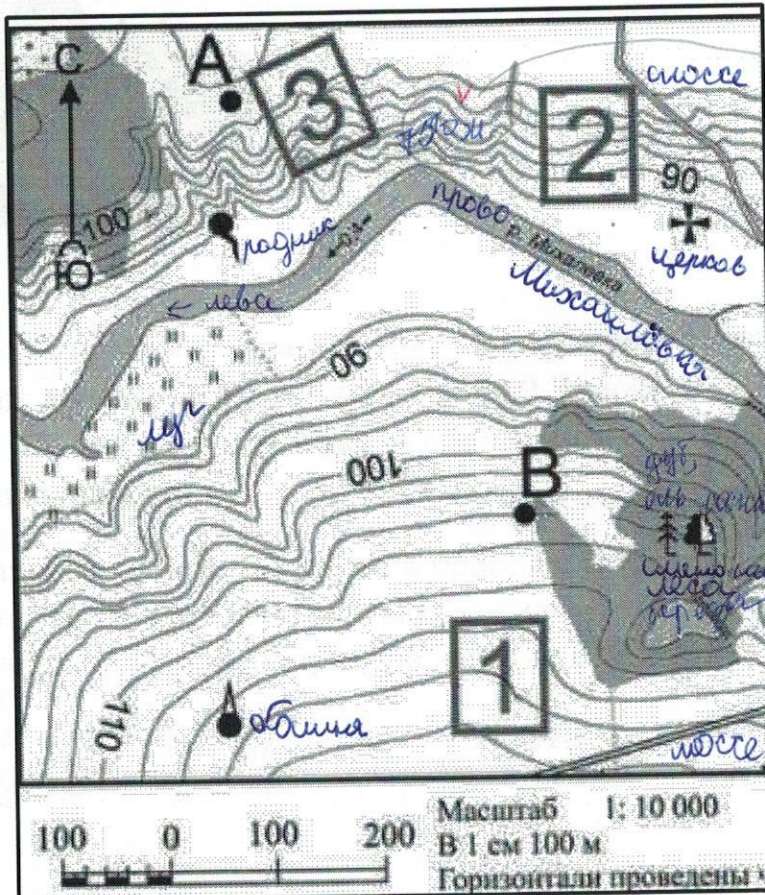
Задание 2

По топографической карте определите название реки, в каком направлении она протекает? Какой лес изображён на карте? Какие породы деревьев могут произрастать в лесу? Определите расстояние от родника до церкви. На каком берегу реки изображён луг? *Мухоморова 10*

с востока на запад

родник

на левом берегу



1

0,5
0,5 + 0,5 / 1 + 1 + 1
1
0,5
40

Максим

Задание 3

1. Подберите обобщающие слова, добавьте ещё по одному слову в каждую группу.

Группа слов	Обобщающие слова	Можно добавить
Холм, равнина, впадина	рельеф	камень 0,5
Гранит, каменная соль, мрамор	ископаемые породы	железо, газ 0,5
Дождь, снег, роса	осадки	шлей 0,5
Река, озеро, подземные воды	гидросфера	квартальная, ледники 0,5
Меркурий, Земля, Венера	планета	лунный 0,5

за кажд. прав. отв. 0,5 балла

48

Задание 4



В мультфильмах очень часто можно увидеть такую картину - ёж несёт на иголках яблоко. Но для чего оно ему? Зимой ежик спит, а яблоки они не едят. Но все же яблоки ежу необходимы. Из множества яблок ёж выбирает кислые или дички.

Напишите, чем питается еж в природе. Объясните для чего ежику яблоки? В какой природной зоне обитают эти животные? Назовите других животных, обитающих в данной природной зоне (не более 4).

Это ёж. Он питается ~~яблоками~~ ^{насекомыми}. Питается в лесу. 25
яблока несет от паразитов. 30 + 30

Белка, заяц, медведь.

15

98

Задание 5

Прочтите фрагмент стихотворения С.В. Михалкова. Какое явление природы описывается в стихотворении? Почему Туча в долгу у «всех морей»?

*приносит воду в прибрежье
образованные облаков от испарения воды на земле*

Говорило Море Туче,

Той, что ливень пролила:

- Эй ты, Туча! Что ж ты лучше

Места выбрать не смогла?

Отвечала Морю Туча:

- Я у всех морей в долгу!

И сегодня выпал случай:

Расплатилась, чем могу.

18 + 18

20

308